

得分：

家長簽名：

☆ 做做看看 (每個答案 1 分)

1. 哪一邊比較長？在 ( ) 裡打✓。

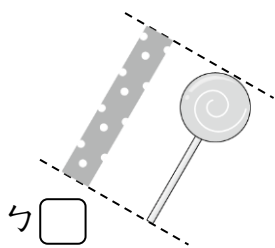
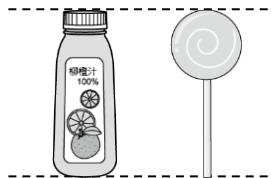


① ( )

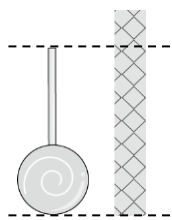


② ( )

2. 哪一條綵帶和果汁的高度一樣長？請打✓。


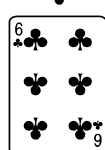
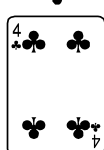

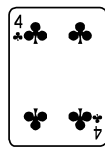

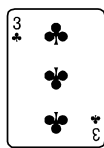



☐



☐

3. 上下哪兩張合起來是 9？畫線連起來。



4.

(1) 5 朵和 ( ) 朵合起來是 7 朵。

(2) 7 朵可以分成 5 朵和 ( ) 朵。

5. 圈出比較薄的書。

①

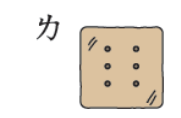
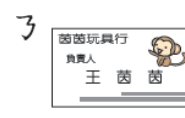
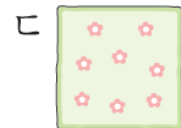
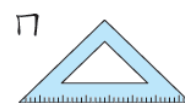


②



6. 下圖中的東西像哪一種形狀？

將編號填入 ( ) 中。



(1) 像圓形的東西：( )。

(2) 像三角形的東西：( )。

(3) 像正方形的東西：( )。

(4) 像長方形的東西：( )。

7. 哪些是直線？在 ( ) 中打✓。

哪些是曲線？在 ( ) 中畫○。

①



( )

②



( )

③



( )

④



( )

8. 比一比，比較短的在 ( ) 中打✓。

①



( )

②




( )

9. 按照由高到矮的順序寫上 1、2、3。

①

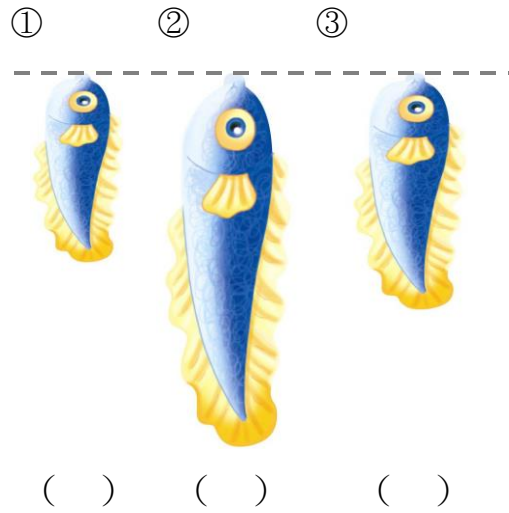
②

③



10. 把魚從短到長按照順序寫上

1、2、3。



11.



(1) 從左邊開始數，排在第幾個的 ( ) 個。

(2) 從右邊開始數，排在第6個的是 ( 老虎, 浣熊, 猴子 )

12. (1) 把5個水果圈起來。




(2) 把第5個水果圈起來。



13. 一隻小白兔吃一根胡蘿蔔，胡蘿蔔夠不夠？連一連再圈一圈。



14. 哪一個形狀不一樣？圈起來。



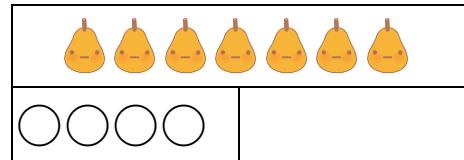
15. 把水果分成2堆，畫○分一分，再填填看。

(1)



7

(2)



7


16. 哪2個數合起來是8？

2	6
5	1

4	5
3	6

17. 合起來有幾個燒賣？

(1)



4

(2)



3

18. 哪些東西有平平的面？圈起來。



19. 哪<sub>レ</sub>些<sub>ニ</sub>東<sub>ク</sub>西<sub>ニ</sub>容<sub>易</sub>一<sub>滾</sub>動<sub>ス</sub>? 圈<sub>ク</sub>起<sub>ス</sub>來<sub>カ</sub>。



20. 小<sub>レ</sub>朋<sub>友</sub>有<sub>ニ</sub>5個<sub>ノ</sub>圈<sub>ノ</sub>套<sub>キ</sub>，按<sub>カ</sub>照<sub>ヒ</sub>套<sub>キ</sub>圈<sub>ノ</sub>的<sub>レ</sub>結<sub>果</sub>填<sub>キ</sub>填<sub>キ</sub>看<sub>テ</sub>。

(1)

5		


沒<sub>ス</sub>套<sub>キ</sub> 中<sub>ニ</sub>套<sub>キ</sub> 中<sub>ニ</sub>套<sub>キ</sub>

(2)

5		

沒<sub>ス</sub>套<sub>キ</sub> 中<sub>ニ</sub>套<sub>キ</sub> 中<sub>ニ</sub>套<sub>キ</sub>

21. 看<sub>テ</sub>圖<sub>ヲ</sub>回<sub>答</sub>問<sub>題</sub>。(每<sub>レ</sub>個<sub>ノ</sub>答<sub>案</sub>2分)



	圈 <sub>ク</sub> 出 <sub>ス</sub> 一 <sub>樣</sub> 多 <sub>ク</sub> 的 <sub>レ</sub> ※	數 <sub>字</sub>
	※※※※※ ※※※※※	
	※※※※※ ※※※※※	

	※※※※※ ※※※※※	
	※※※※※ ※※※※※	
	※※※※※ ※※※※※	

22. 先<sub>ニ</sub>數<sub>ベ</sub>一<sub>數</sub>，再<sub>カ</sub>比<sub>ビ</sub>比<sub>ビ</sub>看<sub>テ</sub>。(每<sub>レ</sub>個<sub>ノ</sub>答<sub>案</sub>2分)



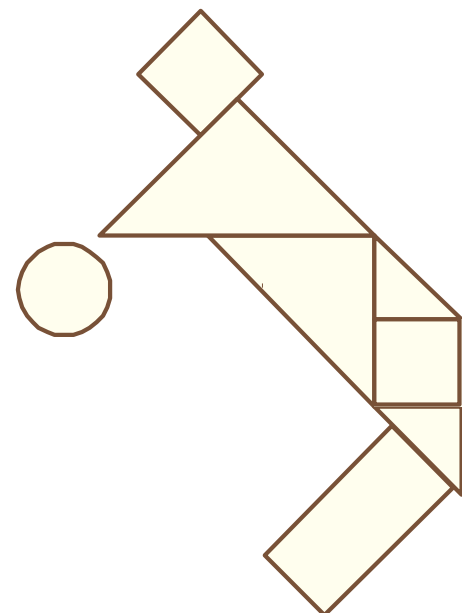
(1) 有<sub>ニ</sub>( )隻<sub>ノ</sub> ，有<sub>ニ</sub>( )隻<sub>ノ</sub> 。

( ， ) 比<sub>較</sub>多<sub>ク</sub>。

(2) 有<sub>ニ</sub>( )隻<sub>ノ</sub> ，有<sub>ニ</sub>( )隻<sub>ノ</sub> 。

( ， ) 比<sub>較</sub>少<sub>ク</sub>。

23. 數<sub>ベ</sub>一<sub>數</sub>，每<sub>レ</sub>一<sub>種</sub>形<sub>狀</sub>各<sub>々</sub>有<sub>ニ</sub>幾<sub>コ</sub>個<sub>ノ</sub>? (每<sub>レ</sub>個<sub>ノ</sub>答<sub>案</sub>2分)



(1) 長<sub>方</sub>形<sub>ノ</sub>有<sub>ニ</sub>( )個<sub>ノ</sub>。

(2) 正<sup>せい</sup>方<sup>ほう</sup>形<sup>けい</sup>有<sup>あ</sup> ( ) 個<sup>こ</sup>。

(3) 三<sup>さん</sup>角<sup>かく</sup>形<sup>けい</sup>有<sup>あ</sup> ( ) 個<sup>こ</sup>。

(4) 圓<sup>えん</sup>形<sup>けい</sup>有<sup>あ</sup> ( ) 個<sup>こ</sup>。